

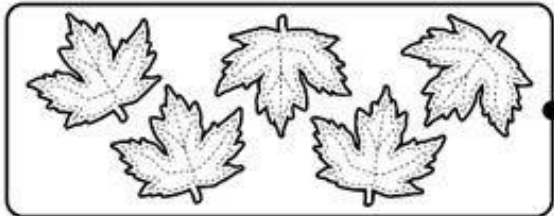



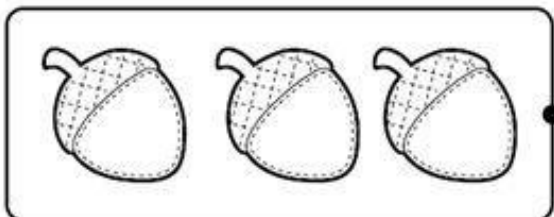







GRADO	Primer Grado d Primaria
ÁREA	MATEMÁTICAS
COMPETENCIA	Resuelve problemas de cantidad
CAPACIDAD	Traduce cantidades a expresiones numéricas
DESEMPEÑO	Establece relaciones entre datos y acciones de agregar

FICHA N° 001

RELACIONANDO NUMERO CANTIDAD

1.- UNE LA CANTIDAD DE OBJETOS CON EL NUMERO QUE CORRESPONDE



GRADO	Primer Grado d Primaria
ÁREA	MATEMÁTICAS
COMPETENCIA	Resuelve problemas de cantidad
CAPACIDAD	Traduce cantidades a expresiones numéricas
DESEMPEÑO	Establece relaciones entre datos y acciones de agregar

NUMERO POSTERIOR Y NUMERO ANTERIOR

1.- Escribir el número posterior

NÚMERO POSTERIOR

1 →

4 →

2 →

0 →

3 →

Escribe el número anterior

NÚMERO ANTERIOR

← 3

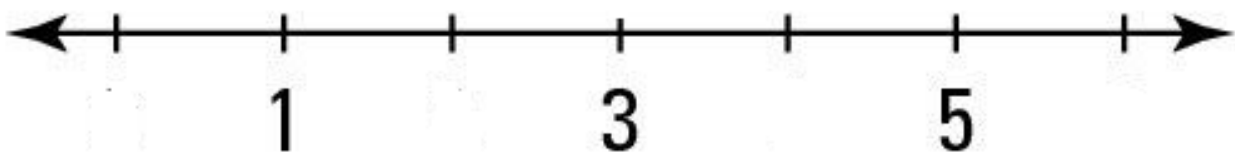
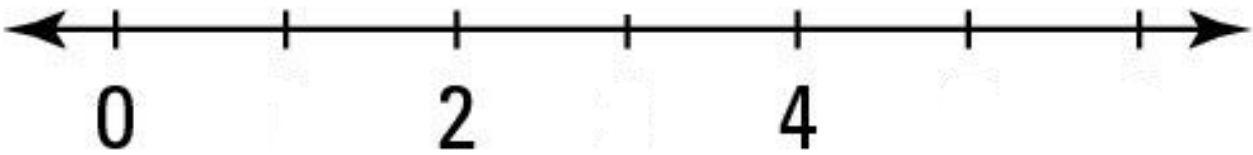
← 1

← 4

← 2

← 5

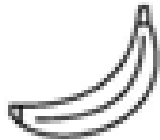
2.- Completa los números en la Recta Numérica





GRADO	Primer Grado d Primaria
ÁREA	MATEMÁTICAS
COMPETENCIA	Resuelve problemas de cantidad
CAPACIDAD	Traduce cantidades a expresiones numéricas
DESEMPEÑO	Establece relaciones entre datos y acciones de agregar

ESCRIBE LOS NUMEROS NATURALES DEL 1 AL 5




uno

1	1	1					



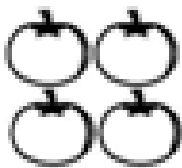
dos

2	2	2					



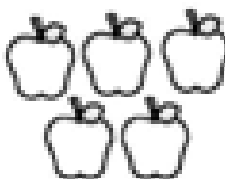
tres

3	3	3					



cuatro

4	4	4					



cinco


5	5	5					




GRADO	Primer Grado d Primaria
ÁREA	MATEMÁTICAS
COMPETENCIA	Resuelve problemas de cantidad
CAPACIDAD	Traduce cantidades a expresiones numéricas
DESEMPEÑO	Establece relaciones entre datos y acciones de agregar

LOS NUMEROS NATURALES DEL 6 AL 10

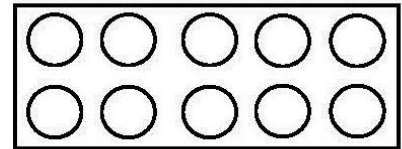
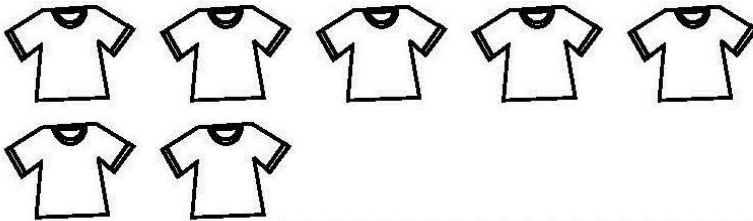
1.- PINTA 6 BOLITAS. ESCRIBE EL NÚMERO 6




seis



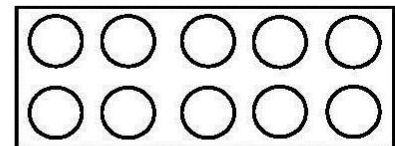

2.- PINTA LAS CAMISETAS Y 7 BOLITAS. ESCRIBE EL NÚMERO 7




siete



3.- PINTA 8 BOLITAS. ESCRIBE EL NÚMERO 8



ocho





GRADO	Primer Grado d Primaria
ÁREA	MTEMATICAS
COMPETENCIA	Resuelve problemas de cantidad
CAPACIDAD	Traduce cantidades a expresiones num{ericas
DESEMPEÑO	Establece relaciones entre datos y acciones de agregar

3.- PINTA 9 MARIPOITAS, 9 FLORES. ESCRIBE EL NÚMERO 9

4.- ESCRIBE EL NÚMERO DE ACUERDO A LA CANTIDAD

Si tiene alguna duda puede consultar al Docente del área

Docente	El Niño Investigador-K'uskiq Erqe	Celular	958179962	Correo	amparobejar@yahoo.es
---------	--	---------	-----------	--------	----------------------



GRADO	Primer Grado d Primaria
ÁREA	MATEMÁTICAS
COMPETENCIA	Resuelve problemas de cantidad
CAPACIDAD	Traduce cantidades a expresiones numéricas
DESEMPEÑO	Establece relaciones entre datos y acciones de agregar

5.- RELACIONA CADA NÚMERO CON SU NOMBRE

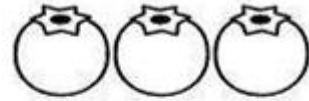
8
4
3
1
6
7
9
2
5

uno
nueve
seis
ocho
cuatro
cinco
dos
tres
siete



GRADO	Primer Grado d Primaria
ÁREA	MATEMÁTICAS
COMPETENCIA	Resuelve problemas de cantidad
CAPACIDAD	Traduce cantidades a expresiones numéricas
DESEMPEÑO	Establece relaciones entre datos y acciones de agregar

6.- LEE Y ESCRIBE EL NOMBRE DE LOS NÚMEROS



1

-

2

-

3

-

uno

dos

tres

_____	_____	_____
_____	_____	_____
_____	_____	_____
_____	_____	_____
_____	_____	_____
_____	_____	_____
_____	_____	_____

