



GRADO	3RO	ÁREA	MATEMATICA	NIVEL	PRIMARIO
TEMA: SITUACIONES LÓGICAS				FICHA N°	010
DOCENTE	Prof. Elizabeth Quispe Castro				
COMPETENCIA	CAPACIDAD		DESEMPEÑO		
Resuelve Problemas de Cantidad	Traduce cantidades a expresiones numéricas		Traduce una o más acciones de agregar, repetir cantidades, combinar colecciones identificadas en problemas, a expresiones de aproximaciones.		

# Situaciones Logicas

## I. ¡PRISIÓN PARA LAS VACAS!




## II. AHORA HAZLO TÚ:

1. ¿Puedes escribir una raya roja con un lapicero azul? ¿Cómo?

---

2. ¿Cuál es el medio de medio?

---

3. **¡Las palomas!**

En un árbol hay 10 palomas. Si un disparo mata a 2, ¿cuántas palomas quedan? y ¿Por qué?

---

4. **¡A sentarse!**

Si tengo ciento cincuenta sillas y ciento cincuenta niños. ¿Sobran sillas o son suficientes?

---

5. **¡Piensa, piensa!**

Si un burro va de norte a sur, ¿hacia dónde apunta su cola?

---

6. **¡Las moscas!**



Encima de mi mesa hay 12 moscas. Si mato 5, ¿cuántas quedan? y ¿por qué?

---

7. **¡Adivina, adivinador!**


¿Qué cosa es que, es algo y nada a la vez?

---

**III. TRAZOS.**

1. ¿Qué figuras se pueden trazar sin pasar dos veces por una línea y sin levantar el lápiz?

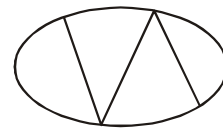
a)



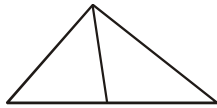
b)



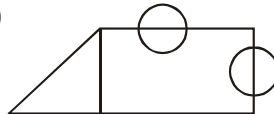
c)



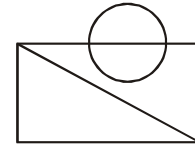
d)



e)



f)



## Retos para el hogar

a) Un vasallo se presentó ante su reina con dos ramilletes de flores y después de inclinarse dijo: "Majestad, entre azucenas y claveles usted escoja". Después de esto se retiró a cobrar el premio de una apuesta que había hecho con otro súbdito. ¿En qué consistió la apuesta?

---

---

b) ¿Qué es lo que pasa todos los años, del 31 de enero al 1 de febrero?

---

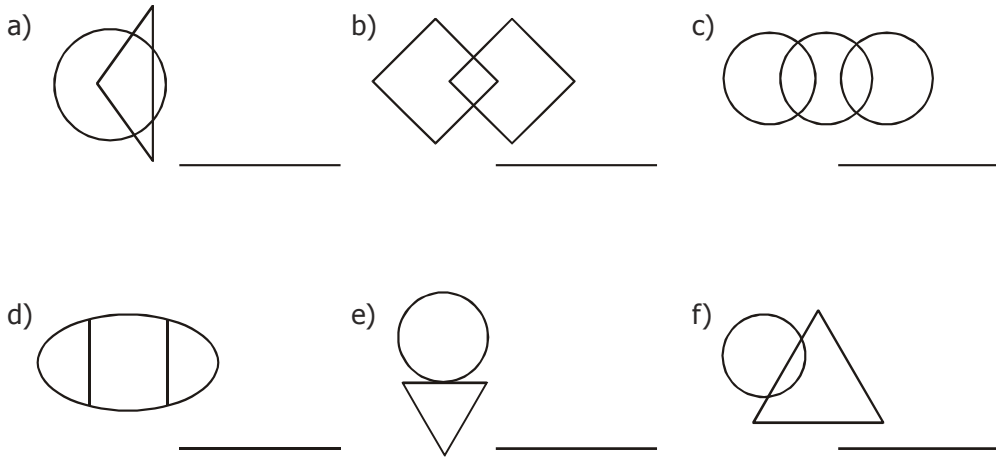
c) Si una pata pone un huevo exactamente en la línea límite entre el Perú y Chile. ¿A quién pertenece el huevo?

---

d) 3 personas caminaban debajo de un paraguas y ninguna de ellas se mojó. ¿Por qué?

---

e) ¿Qué figuras se pueden trazar, sin pasar dos veces por una línea y sin levantar el lápiz?



## Mis logros

1. Resuelvo en forma creativa y con ingenio las siguientes preguntas:

a) Una señora, vestida de negro va por Flores al cementerio. ¿Cómo se llama el difunto?

\_\_\_\_\_

b) ¿Qué es lo primero que se necesita, para bajar de un árbol?

\_\_\_\_\_

2. Identifico figuras de un solo trazo (sin pasar dos veces por una línea y sin levantar el lápiz)

Pinta la carita de la respuesta correcta.

