



GRADO	PRIMARIA – 2DO.
ÁREA	MATEMÁTICA
COMPETENCIA	Resuelve problemas de cantidad
CAPACIDAD	Traduce cantidades a expresiones numéricas
DESEMPEÑO	Traduce uno o más acciones de separar, agregar, quitar cantidades idénticas en problemas

FICHA N° 008 CONJUNTOS

DETERMINACIÓN DE COJUNTOS

¡Ayuda a Carlitos! Ella quiere ordenar sus objetos, sabe que el orden en su casita es muy importante.

I. En la siguiente página, dibuja los objetos dentro de los conjuntos correspondientes.

Ejemplo:

$M = \{\text{Números menores que } 9\}$
 $M = \{0, 1, 2, 3, 4, 5, 6, 7, 8\}$

M

↑
Nombre del conjunto, puedes elegir cualquier letra mayúscula.


The diagram shows a large light blue circle containing the numbers 0 through 8. A smaller box labeled 'M' is connected to the circle by a line. An arrow points from the text below to the box 'M'.




GRADO	PRIMARIA - 2DO.
ÁREA	MATEMÁTICA
COMPETENCIA	Resuelve problemas de cantidad
CAPACIDAD	Traduce cantidades a expresiones numéricas
DESEMPEÑO	Traduce uno o más acciones de separar, agregar, quitar cantidades idénticas en problemas

2. Representar los siguientes conjuntos conjuntos en forma grafica y simbolica a cada uno. El Conjunto **A** esta formado por los útiles escolares, el conjunto **B** esta formado por las frutas y el conjunto **D** esta formado por las ropas.




A 

A = { }

B 

B = { }

D 

D = { }



GRADO	PRIMARIA - 2DO.
ÁREA	MATEMÁTICA
COMPETENCIA	Resuelve problemas de cantidad
CAPACIDAD	Traduce cantidades a expresiones numéricas
DESEMPEÑO	Traduce uno o más acciones de separar, agregar, quitar cantidades idénticas en problemas

FICHA N° 009
ANTES Y DESPUÉS

1. Escribe el número que se encuentra antes y después del número dado.

	12	
--	----	--

	4	
--	---	--

	19	
--	----	--

	17	
--	----	--

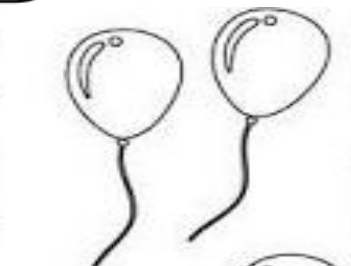
	10	
--	----	--

	8	
--	---	--

	2	
--	---	--

	15	
--	----	--

	7	
--	---	--

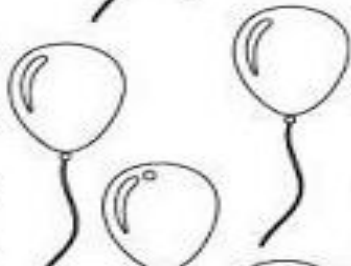


	4	
--	---	--

	15	
--	----	--

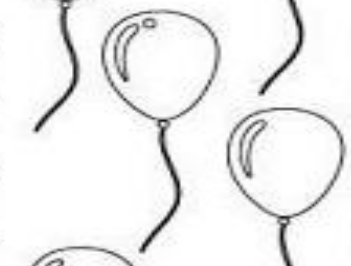
	12	
--	----	--

	9	
--	---	--



	19	
--	----	--

	5	
--	---	--




	2	
--	---	--

	14	
--	----	--

	3	
--	---	--

	10	
--	----	--



	18	
--	----	--

	16	
--	----	--

	11	
--	----	--

Si tiene alguna duda puede consultar al Docente del área

Docente

Elena Rojas Mosqueira

Celular

957735124

Correo

ele.rm@hotmail.com



GRADO	PRIMARIA - 2DO.
ÁREA	MATEMÁTICA
COMPETENCIA	Resuelve problemas de cantidad
CAPACIDAD	Traduce cantidades a expresiones numéricas
DESEMPEÑO	Traduce uno o más acciones de separar, agregar, quitar cantidades idénticas en problemas

FICHA N° 010

1. Resuelve las siguientes operaciones.

+ 4	
3	
2	
0	
4	
1	

+ 5	
5	
3	
4	
2	
1	

+ 6	
3	
0	
6	
1	
4	

+ 4	
3	
2	
4	
1	
0	

+ 5	
3	
2	
0	
4	
1	

+ 6	
5	
3	
4	
2	
1	

+ 6	
5	
2	
3	
6	
0	

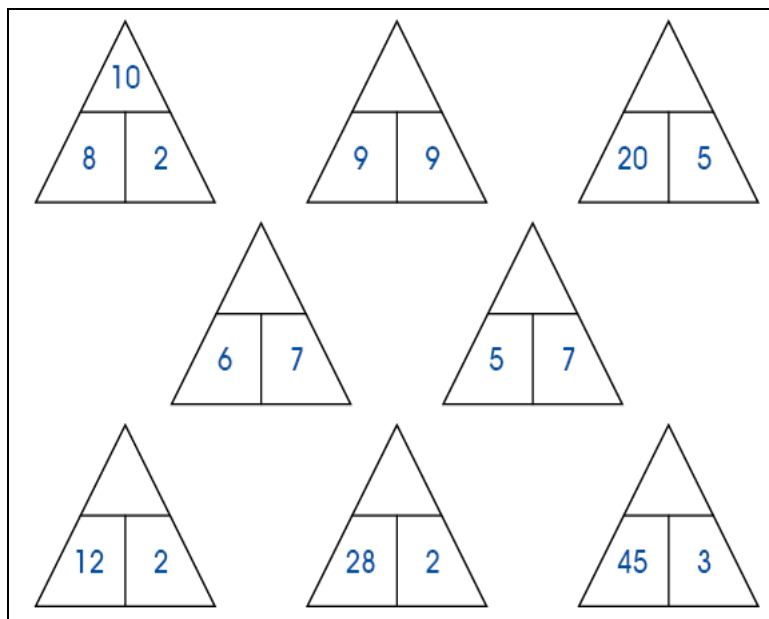
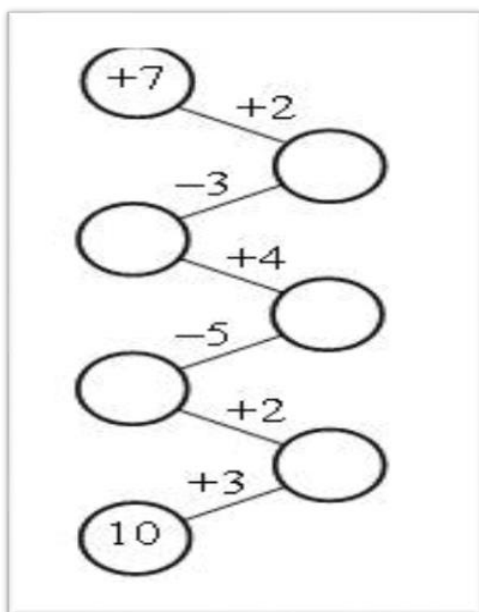
+ 5	
3	
2	
4	
1	
0	

+ 4	
3	
2	
0	
4	
1	

+ 6	
6	
5	
2	
4	
3	

+ 7	
3	
0	
6	
1	
4	

+ 7	
4	
2	
5	
3	
7	



Si tiene alguna duda puede consultar al Docente del área

Docente	Elena Rojas Mosqueira	Celular	957735124	Correo	ele.rm@hotmail.com
---------	-----------------------	---------	-----------	--------	--



GRADO	PRIMARIA – 2DO.
ÁREA	MATEMÁTICA
COMPETENCIA	Resuelve problemas de cantidad
CAPACIDAD	Traduce cantidades a expresiones numéricas
DESEMPEÑO	Traduce uno o más acciones de separar, agregar, quitar cantidades idénticas en problemas

FICHA N° 011
ME ENCANTAN LOS PROBLEMAS

**1. Marco vende 28 platos de ensalada de frutas, y Carmen vende el doble de Marco
¿Cuántos platos vendió Carmen?**

DATOS	OPERACIÓN	RESULTADO

2. Eliana tiene 45 juguetes y Analí tiene 56 figuritas ¿Cuántos de más tiene Analí?

DATOS	OPERACIÓN	RESULTADO

3. Si tengo 46 naranjas en mi carro y se aplastan 22 ¿Cuántas naranjas me quedan en buen estado?

DATOS	OPERACIÓN	RESULTADO

Si tiene alguna duda puede consultar al Docente del área

Docente	Elena Rojas Mosqueira	Celular	957735124	Correo	ele.rm@hotmail.com
---------	-----------------------	---------	-----------	--------	--



GRADO	PRIMARIA – 2DO.
ÁREA	MATEMÁTICA
COMPETENCIA	Resuelve problemas de cantidad
CAPACIDAD	Traduce cantidades a expresiones numéricas
DESEMPEÑO	Traduce uno o más acciones de separar, agregar, quitar cantidades idénticas en problemas

4. En un galpón hay 4 jaulas y en cada jaula hay 7 gallos ¿Cuántos gallos hay en total en el galpón?

DATOS	OPERACIÓN	RESULTADO

5 Carolina tiene una vaca lechera y le da leche diario 6 litros ¿cuántos litros le da una semana?..

DATOS	OPERACIÓN	RESULTADO

6. Marco gana 145 soles diario ¿Cuánto gana en 3 días?

DATOS	OPERACIÓN	RESULTADO

Si tiene alguna duda puede consultar al Docente del área

Docente	Elena Rojas Mosqueira	Celular	957735124	Correo	ele.rm@hotmail.com
---------	-----------------------	---------	-----------	--------	--



GRADO	PRIMARIA – 2DO.
ÁREA	MATEMÁTICA
COMPETENCIA	Resuelve problemas de cantidad
CAPACIDAD	Traduce cantidades a expresiones numéricas
DESEMPEÑO	Traduce uno o más acciones de separar, agregar, quitar cantidades idénticas en problemas

7. Si tengo 36 manzanas en mi canasta y aumento 13 manzanas y luego me como 15 ¿Cuántas manzanas me quedan en mi canasta?

DATOS	OPERACIÓN	RESULTADO

8. María compra 27 colores y se les pierde 14 colores ¿Cuántos colores le quedan?

DATOS	OPERACIÓN	RESULTADO

Si tiene alguna duda puede consultar al Docente del área

Docente	Elena Rojas Mosqueira	Celular	957735124	Correo	ele.rm@hotmail.com
---------	-----------------------	---------	-----------	--------	--