

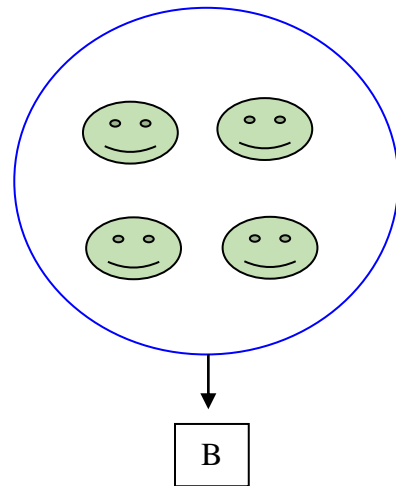
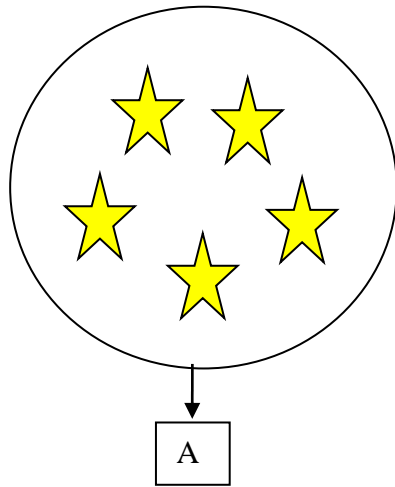


GRADO	PRIMARIA – 2DO.
ÁREA	MATEMÁTICA
COMPETENCIA	Resuelve problemas de cantidad
CAPACIDAD	Traduce cantidades a expresiones numéricas
DESEMPEÑO	Explica con sus propias palabras la noción de conjunto y enumera los elementos de un conjunto

FICHA N° 004

1.- Trabajando con los conjuntos

CONJUNTOS



$$A = \{ \text{★ ★ ★ ★ ★} \}$$

$$B = \{ \text{😊 😊 😊 😊} \}$$

A = Tiene.....elementos.

B = Tiene..... elementos.

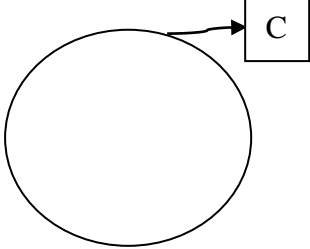
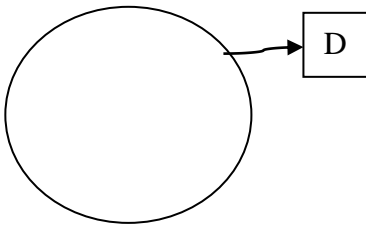
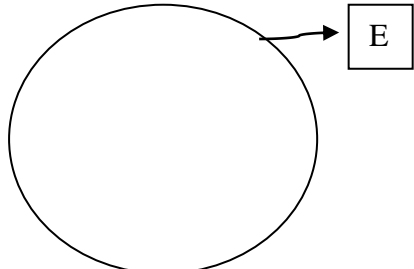
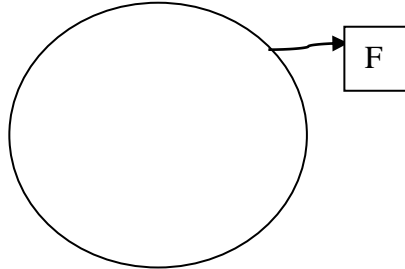
El conjunto es una colección de objetos que tiene características comunes, se nombra con una letra mayúscula.



GRADO	PRIMARIA - 2DO.
ÁREA	MATEMÁTICA
COMPETENCIA	Resuelve problemas de cantidad
CAPACIDAD	Traduce cantidades a expresiones numéricas
DESEMPEÑO	Explica con sus propias palabras la noción de conjunto y enumera los elementos de un conjunto

FICHA N° 005

2.- Representa los siguientes conjuntos utilizando el diagrama de Ven - Euler y las llaves.

<p>$C = \{ \text{números menores que 7} \}$</p>  <p>$C = \{ \quad \quad \quad \}$</p>	<p>$D = \{ \text{vocales} \}$</p>  <p>$D = \{ \quad \quad \quad \}$</p>
<p>$E = \{ \text{Días de la semana} \}$</p>  <p>$E = \{ \quad \quad \quad \}$</p>	<p>$F = \{ \text{Colores básicos} \}$</p>  <p>$F = \{ \quad \quad \quad \}$</p>

Si tiene alguna duda puede consultar al Docente del área

Docente	Elena Rojas Mosqueira	Celular	957735124	Correo	ele.rm@hotmail.com
---------	-----------------------	---------	-----------	--------	--



GRADO	PRIMARIA – 2DO.
ÁREA	MATEMÁTICA
COMPETENCIA	Resuelve problemas de cantidad
CAPACIDAD	Traduce cantidades a expresiones numéricas
DESEMPEÑO	Explica con sus propias palabras la noción de conjunto y enumera los elementos de un conjunto

FICHA N° 006

3.- Representa en forma simbólica cada conjunto.

a).- C es el conjunto de las letras de la palabra adición .	b).- F es el conjunto de días de la semana que termina en vocal.
c).- M es el conjunto de los números impares menores que 10 .	d).- G es el conjunto de las letras de la palabra terminación .

4.- Representa en forma simbólica y grafica los siguientes conjuntos.

a).- P es el conjunto de las letras de la palabra pescador	b).- Q es el conjunto de las letras de la palabra zanahoria .
--	---

Si tiene alguna duda puede consultar al Docente del área

Docente	Elena Rojas Mosqueira	Celular	957735124	Correo	ele.rm@hotmail.com
---------	-----------------------	---------	-----------	--------	--